



MUNICÍPIO DE PORTO UNIÃO (SC)



CONCURSO PÚBLICO Nº 001/2015 CADERNO DE PROVAS CARGO: PSICÓLOGO

1. Os telefones celulares e outros equipamentos eletrônicos deverão ser desligados antes do início da prova;
2. Você está recebendo um caderno de provas com 50 questões de múltipla escolha, com 4 alternativas de respostas cada, sendo que apenas 1 alternativa estará correta;
3. Para a realização da Prova Escrita, o candidato deverá utilizar apenas caneta esferográfica, de tinta azul ou preta;
4. Verifique se o caderno de provas está completo, sem falhas de impressão e se a quantidade de questões está de acordo com o informado acima. Confira também se sua prova corresponde ao cargo para o qual você se inscreveu. Caso haja qualquer divergência, comunique o fato ao fiscal imediatamente;
5. Além do caderno você está recebendo um cartão resposta, complete as informações e assine o cartão;
6. Você deverá transcrever as respostas das questões objetivas para o cartão resposta, que será o único documento válido para a correção das provas. O preenchimento do cartão resposta é de inteira responsabilidade do candidato. Este cartão **não** será substituído em caso de erro do candidato;
7. Durante a realização das provas é vedada a consulta a livros, revistas, folhetos ou anotações, bem como, o uso de máquinas de calcular, relógios e aparelhos celulares, ou ainda, qualquer equipamento elétrico ou eletrônico, sob pena de eliminação do candidato do concurso público;
8. No decurso da Prova o candidato somente poderá ausentar-se temporariamente da sala se acompanhado por um fiscal.
9. Você terá 4 horas para a realização da prova, incluindo o tempo para preenchimento do cartão-resposta.
10. O candidato somente poderá retirar-se definitivamente da sala de Prova após 60 minutos de seu início.
11. Os 3 últimos candidatos de cada sala somente poderão entregar as suas provas e retirar-se definitivamente do local simultaneamente, depois de haver rubricado o verso de todos os cartões resposta, bem como, o envelope lacrado contendo todos os cartões resposta da sala.
12. Para o PREENCHIMENTO DO CARTÃO RESPOSTA marque somente uma alternativa preenchendo totalmente o círculo, evitando ultrapassar a linha que margeia a letra. Não faça um X ou qualquer outra marca.

OBS: Você pode destacar esta folha. Utilize o verso para fazer suas anotações.



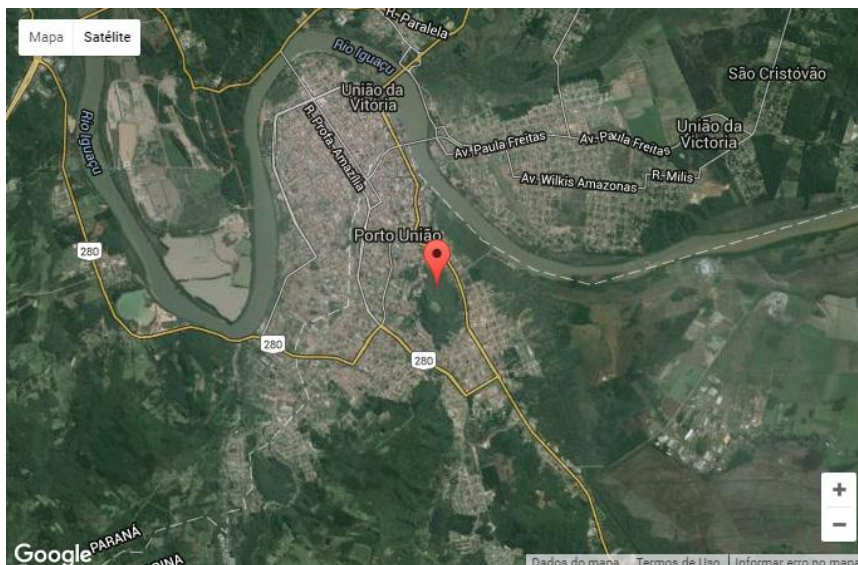
MUNICÍPIO DE PORTO UNIÃO (SC)



CONHECIMENTOS GERAIS E ATUALIDADES

1. O município de Porto União foi fundado em 5 de setembro de 1917 e tem hoje 34.551 (estimativa IBGE 2013). Está localizado no planalto norte catarinense, distante a 430 km de Florianópolis, 240 km de Curitiba e 271 km de Joinville. O município possui infraestrutura típica de cidade pequena com comércio, serviços e indústrias diversificados. Une-se há apenas um passo da cidade irmã, União da Vitória, no Paraná. As duas cidades são separadas apenas por trilhos de trem e ladeadas pelo Rio Iguaçu.

Fonte: <http://www.portouniao.sc.gov.br/>



Nesse enfoque, além de União da Vitória, é município limítrofe de Porto União, exceto:

- a) Paula Freitas
- b) Matos Costa
- c) Timbó Grande
- d) General Carneiro

2. Leia o recorte que segue:

“Atualmente o Ministério da Saúde está investigando 4.268 casos suspeitos da malformação fetal. O Ministério da Saúde e os estados investigam 4.268 casos suspeitos de microcefalia em todo o país. Isso representa 65,9% dos casos notificados. O novo informe divulgado nesta quarta-feira (16) aponta, também, que 2.212 casos foram investigados e classificados, sendo 1.349 descartados e 863 confirmados para microcefalia e outras alterações do sistema nervoso, sugestivos de infecção congênita. Ao todo, foram notificados 182 óbitos por microcefalia e/ou alteração do sistema nervoso central após o parto (natimorto) ou durante a gestação (abortamento ou natimorto). Destes, 40 foram confirmados para microcefalia e/ou alteração do sistema nervoso central. Outros 124 continuam em investigação e 18 já foram descartados. Do total de casos de microcefalia confirmados, 97 foram notificados por critério laboratorial específico para o Zika vírus. No entanto, o Ministério da Saúde ressalta que esse dado não representa, adequadamente, a totalidade do número de casos relacionados ao vírus. A pasta considera que houve infecção pelo Zika vírus na maior parte das mães que tiveram bebês, cujo diagnóstico final foi de microcefalia”. Fonte: Publicação do dia 17/03/2016 no site minha vida- saúde, alimentação e bem-estar-<http://www.minhavidacom.br/>.

A microcefalia é o resultado do crescimento abaixo do normal do cérebro da criança ainda no útero ou na infância. A microcefalia pode ser genética. Algumas outras causas da microcefalia são, exceto:

- a) Desnutrição grave na gestação.
- b) Toxoplasmose congênita na gravidez.
- c) Formação adequada do sistema nervoso central.
- d) Exposição a drogas, álcool e certos produtos químicos na gravidez.



3. Segundo o site www.portouniao.sc.gov.br, o primeiro nome do município de Porto União, foi Porto da União, devido à passagem do Rio Iguazu nesse lugar ser de baixa profundidade que facilitou a passagem das tropas que vinham dos campos de Palmas e ser também o ponto de embarque e desembarque para quem usava o rio Iguazu como meio de transporte. Esse povoado, que deu origem a cidade começou em que ano?

- a) 1842.
- b) 1855
- c) 1901
- d) 1917

4. O Brasil, juntamente com Rússia, Índia e China e África do Sul, formam o BRICS. O termo BRIC foi criado em 2001 pelo economista inglês Jim O'Neill para fazer referência a estes países emergentes que possuem características comuns como, por exemplo, bom crescimento econômico. Nesse contexto, analise as proposições a seguir assinalando V para verdadeiras e F para as falsas, para as semelhanças dos países supracitados:

- () Mão-de-obra em grande quantidade e em processo de qualificação;
- () Níveis de produção e exportação em crescimento;
- () Boas reservas de recursos minerais;
- () Insignificantes investimentos em setores de infra-estrutura (estradas, ferrovias, portos, aeroportos, usinas hidrelétricas);
- () Índices sociais em processo de melhorias;
- () Investimentos de empresas estrangeiras nos diversos setores da economia.

A sequência correta de cima para baixo está na alternativa:

- a) V,F,F,F,V,V.
- b) V,V,V,F,V,V.
- c) V,V,V,F,V,F.
- d) F,F,F,V,V,F.

5. Leia o recorte da notícia a seguir:

“Explosões em **Bruxelas** deixaram mais de 30 mortos e pelo menos 100 feridos nesta terça-feira (22). Duas explosões ocorreram às 8 horas da manhã no horário local – 4h horário de Brasília. Atingiram a área de embarque do Aeroporto Internacional de Zaventem. As autoridades acreditam que um dos explosivos foi acionado por um homem-bomba. Mais tarde outra explosão ocorreu no metrô Maelbeek perto do Parlamento Europeu...” Fonte:<http://epoca.globo.com/tempo/noticia/2016/03/atentados-em-bruxelas-fazem-mortos-no-aeroporto-e-no-metro.html>.

A cidade citada na reportagem é a capital de qual país europeu?

- a) Luxemburgo
- b) Polônia
- c) Ucrânia
- d) Bélgica



6. No início do ano de 2016, um país lançou mísseis balísticos, ou seja, mísseis com trajetórias pré-determinadas, na costa asiática banhada pelo Oceano Pacífico, fazendo a ONU- Organização das Nações Unidas e algumas potências mundiais prestarem mais atenção nele, fala-se de:

- a) Vietnã
- b) Coreia do Sul
- c) Coreia do Norte
- d) Filipinas

7. Leia o texto que segue:

“A história está repleta de atentados terroristas. Os mais recentes que chocaram o Ocidente aconteceram em Paris: os ataques ao jornal francês Charlie Hebdo em janeiro de 2015 e a série de ataques coordenados, com explosões e tiroteios em seis diferentes locais da cidade em novembro do mesmo ano. Os dois atentados foram assumidos pelo Estado Islâmico (EI). Em nota, o grupo radical islâmico afirma que os atentados são retaliações motivadas pela participação do país europeu na coalizão contra o grupo na Síria e no Iraque. O Estado Islâmico é a face mais temida do terrorismo hoje. O grupo ocupou territórios da Síria e do Iraque, onde anunciou um califado islâmico. Sua luta é contra o modo de vida do Ocidente e pela unificação dos muçulmanos em um território. Seus atos são conhecidos pela crueldade como massacres em massa, decapitação de “infiéis” e a destruição de patrimônios da humanidade.”

Fonte: <http://vestibular.uol.com.br/>

Nesse contexto, além do Estado Islâmico, que alternativa aponta um grupo que não é considerado terrorista na atualidade?

- a) Al-Qaeda (A Base)
- b) Boko Haram (A educação ocidental é um pecado)
- c) IRA (Exército Republicano Irlandês)
- d) RDC (Conselho Dinamarquês para os Refugiados)

8. Num país democrático, as instituições precisam exercer suas atribuições a todo vapor. O atual sistema político do Brasil é baseado na [separação de poderes do Estado](#), com a divisão entre Executivo, Legislativo e Judiciário. O Judiciário deve respeitar os atos do Executivo ou do Legislativo. Porém, se esses poderes contrariarem a Constituição Federal de 1988 ou desrespeitarem algum direito fundamental, o Judiciário deve sair em defesa dos interesses da população e invalidar atos e leis do Congresso. O Judiciário é a mais alta Corte brasileira, exercendo importante papel no sistema de controle de constitucionalidade, bem como atuando em causas de competência originária, além de ser o foro por prerrogativa de função dos agentes públicos que compõem o mais alto escalão do esquema central do poder. (Adaptado de www.ibrajus.org.br)

O enunciado acima se refere a:

- a) Supremo Tribunal Federal
- b) Suprema Corte
- c) Conselho de Magistrados
- d) Corte Suprema da Justiça



9. Em novembro de 2015 o Brasil aprovou a Lei 13.185, considerado um marco jurídico de combate ao bullying e a primeira lei nacional que tem como objetivos prevenir e combater a prática da intimidação sistemática no país. A lei federal não é inédita. Alguns Estados e vários municípios já possuíam leis voltadas para combate esse tipo de agressão na escola. Sobre o bullying, assinale a alternativa incorreta:

- O bullying é definido como ato de violência física ou psicológica, intencional e repetitivo que ocorre sem motivação evidente, praticado por indivíduo ou grupo, contra uma ou mais pessoas.
- Os processos judiciais envolvendo bullying são baseados em leis como o ECA (Estatuto da Criança e do Adolescente), a Constituição, o Código de Defesa do Consumidor, exceto o Código Penal.
- Segundo a lei, o comportamento pode ser classificado como: verbal (insultar, xingar e apelidar pejorativamente), moral (difamar, caluniar, disseminar rumores), sexual (assediar, induzir ou abusar), psicológico (perseguir, amedrontar, aterrorizar, intimidar, dominar, manipular, chantagear e infernizar), físico (socar, chutar, bater), material (furtar, roubar, destruir pertences de outrem) e virtual (violência na internet).
- São exemplos de bullying: acusar sistematicamente a vítima de não servir para nada; ataques físicos repetidos contra uma pessoa, seja contra o corpo dela ou propriedade; espalhar rumores negativos sobre a vítima.

10. Em relação à população mundial analise as proposições a seguir:

- I-A população mundial atual ultrapassa os 7.000.000.000 pessoas.
II-O Brasil tem a menor população da América do Sul.
III-A Índia é o país mais populoso do mundo.
IV- Cingapura está entre os países com maior densidade demográfica do globo.

Assinale a alternativa correta:

- Somente as afirmativas I e II são verdadeiras.
- Somente as afirmativas III e IV são verdadeiras.
- Somente as afirmativas I e IV são verdadeiras.
- Somente as afirmativas II e IV são verdadeiras.

LÍNGUA PORTUGUESA

11. Numa palavra, nem sempre há o mesmo número de letras e fonemas. Letras e fonemas apresentam conceitos distintos, letra é representação gráfica do fonema; já o fonema é a representação sonora. Com base nisso, assinale a alternativa em que todas as palavras tenham o mesmo número de fonemas:

- Espinhos, terrível, deixando, estrada;
- Estradão, berrante, mulungus, espinhos;
- Mandacarus, companheiros, retorcidos, boiadeiro;
- Espinhos, mulungus, aroeiras, berrante.

12. Assinale a alternativa em que todas as palavras tenham a mesma classificação quanto a sílaba tônica:

- a) Mandacarus, mulungus, estradão, sinais;
- b) Espinhos, mandacarus, passagem, expõem;
- c) Terrível, mulungus, boiadeiro, espinhos;
- d) Retorcidos, mandacarus, berrante, estradão;

Leia e depois responda à questão 13 e 14:



13. A tira acima faz alusão ao uso da crase. Nas frases a seguir empregou-se corretamente a crase, exceto em uma das frases da alternativa:

- a) Fui a Lisboa receber o prêmio. / Paulo começou a falar em voz alta.
- b) Pedimos silêncio a todos. Pouco a pouco, a praça central se esvaziava.
- c) Esta música foi dedicada a ele. / Os romeiros chegaram a Bahia.
- d) Bateram a porta fui atender. / O carro entrou a direita da rua.

14. Dadas as frases:

- I – O candidato falou às classes trabalhadoras.
- II – Estou aqui desde as sete horas, mas sairei as nove, sem falta.
- III - Saíram e deixaram-me a espera dos outros.
- IV – Você só poderá ser atendido às dez horas.
- V – Graças a inteligência e a dedicação, o aluno venceu.

Análise as frases quanto ao uso da crase e assinale a alternativa que apresenta as que estão corretas:

- a) I, II e V;
- b) I, III e IV;
- c) II, IV e V;
- d) II, III e IV.

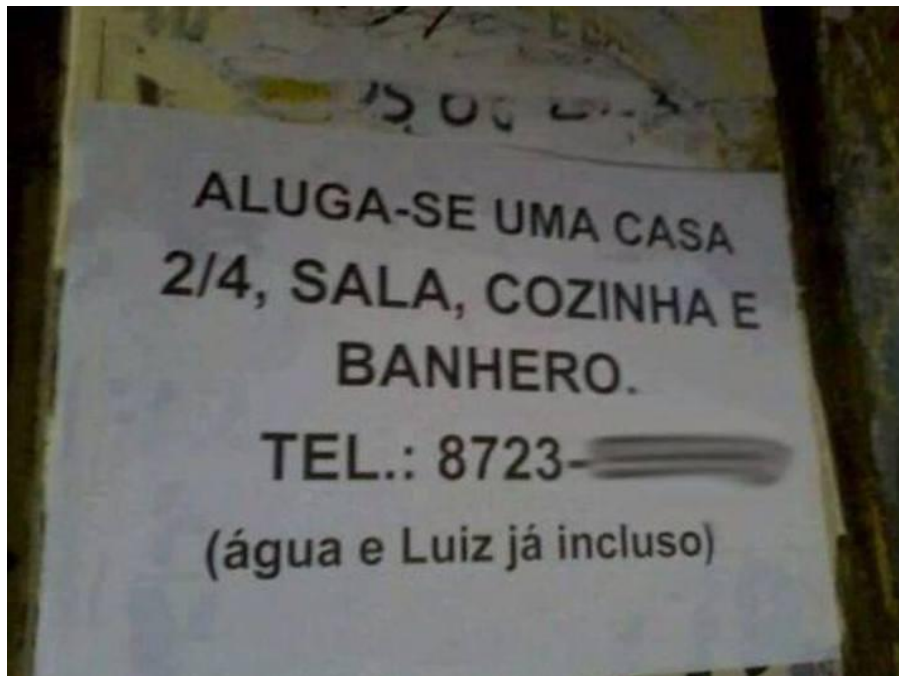
15. A pontuação na linguagem funciona como uma espécie de sinalização, guiando e organizando o texto a ser lido. Como num trânsito, os sinais apontam onde deve haver pausas ou o que chama a atenção. Assim, uma mesma frase pode apresentar sentidos diferentes, dependendo de como está pontuada. Nesta perspectiva leia as frases a seguir:

- I. **Meu pai chegou? Não vou esperá-lo!**
- II. **Meu pai chegou? Não? Vou esperá-lo!**

É correto afirmar:

- a) As duas frases indicam que a pessoa não vai esperar o pai.
- b) A frase I indica que a pessoa não quer esperar o pai e a frase II indica que a pessoa vai esperá-lo.
- c) A frase I indica que a pessoa quer esperar o pai e a frase II indica que a pessoa não vai esperá-lo.
- d) As duas frases indicam que a pessoa vai esperar pelo pai.

16. Considerando a ortografia e a concordância utilizada no anúncio abaixo, assinale a alternativa incorreta:



- a) Pelo contexto do anúncio, é possível entender que 2/4 foi usado como forma abreviada (alternativa) de “dois quartos”(dois cômodos);
- b) Se Luiz foi usado com a intenção de referir-se a luz (energia elétrica), a construção correta da frase seria: água e luz já inclusos;
- c) Há um erro ortográfico na palavra “BANHERO” que foi escrita com o intuito de escrever “banheiro”;
- d) Considerando que não haja erro ortográfico em (água e Luiz já incluso), a construção correta deveria ser “água e Luiz já inclusa”;

17. Considere as frases:

I - Envio-lhes, inclusas, as certidões./ Incluso segue o documento.

II - Os documentos seguiram inclusos às fichas de inscrição./ A fotografia vai anexa ao currículo.

III - Estão inclusas as passagens no pacote./ As fotografias vão em anexo.

IV - Remeto a V.S.as., incluso nesta pasta, uma fotocópia do recibo. / Os documentos irão anexos ao relatório.

Com relação a concordância de anexo e incluso (e variações) não apresentam erro os pares de frases:

- a) I, II e III;
- b) II, III e IV;
- c) I e II;
- d) II e IV;

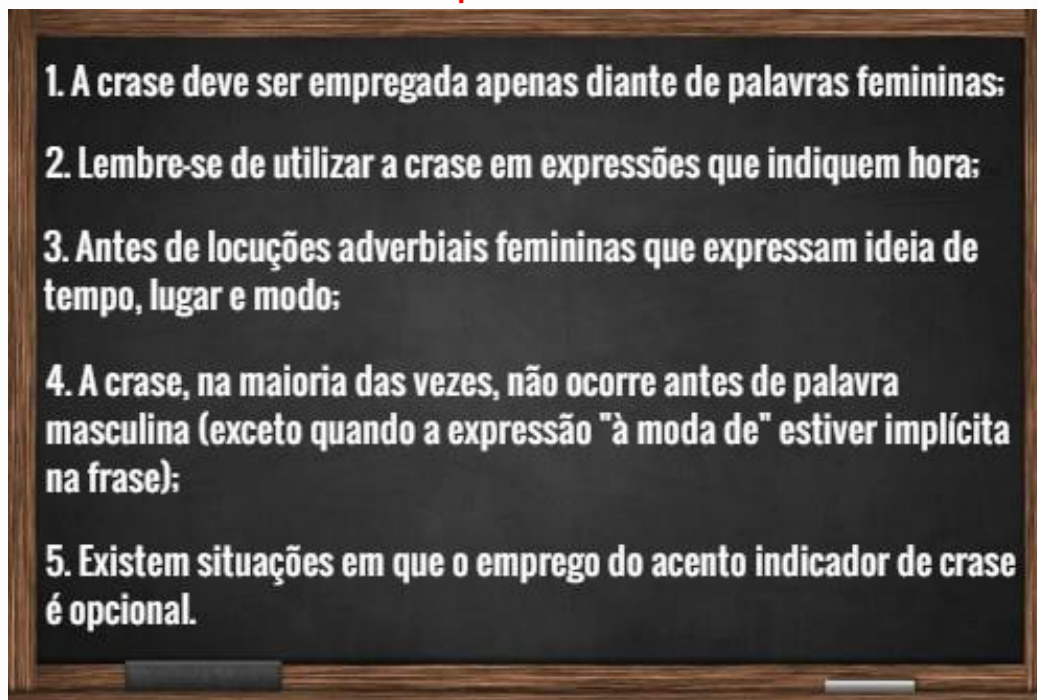
18. Sobre o anúncio abaixo estão corretas as considerações da alternativa:



- a) A palavra FACHETÁRIA é exemplo de composição por justaposição e seu significado tem a ver com: idade (pessoas da mesma idade); “2 à 10 anos” deveria ser escrito sem o acento indicador da crase (2 a 10 anos);
- b) A palavra FACHETÁRIA é exemplo de composição por aglutinação e seu significado tem a ver com: idade (pessoas da mesma idade); “2 a 10 anos” deveria ser escrito sem o acento indicador da crase (2 a 10 anos);
- c) A grafia correta de FACHETÁRIA é faixa etária e seu significado tem a ver com: idade (pessoas da mesma idade); “2 à 10 anos” deveria ser escrito sem o acento indicador da crase (2 a 10 anos);
- d) A grafia correta de FACHETÁRIA é faixetária e seu significado tem a ver com: idade (pessoas da mesma idade); o acento indicador da crase foi corretamente empregado em “2 à 10 anos”;

19. Atente para as dicas sobre crase e depois responda:

Cinco dicas simples sobre o uso da crase:



As dicas acima estão relacionadas ao uso da crase. Com base nelas e nas demais regras que regem o seu uso, assinale a resposta incorreta:

- a) Marcaram o encontro no restaurante para as 20h.
- b) Fique tranquilo, eu estarei no trabalho até as 9h.
- c) Carlos fez um pedido à Mariana.
- d) Eles viajaram à bordo de uma aeronave moderna.

20. Veja a propaganda que vende copos plásticos a preços promocionais:



GS Plásticos

Copos de plástico de várias cores.
Capacidade: 330ml

R\$ 1,99
CADA

LEVE 2 POR R\$ 3,50

Assinale a alternativa que não está de acordo com o texto:

- a) Conforme informação, os copos oferecidos no anúncio são de cores diferentes;
- b) O anúncio sugere que é vantagem comprar dois copos de uma só vez;
- c) Comprar dois copos separadamente é mais caro que comprar dois de uma só vez;
- d) A informação contida no anúncio sugere comprar dois copos pelo preço de um.

MATEMÁTICA E RACÍOCÍNIO LÓGICO

21. Uma tartaruga consegue desenvolver uma velocidade máxima de 3 Km/h. Se esta tartaruga se deslocar por 36 minutos, qual será a distância percorrida por ela?

- a) 10.800 metros;
- b) 13.400 metros;
- c) 18.400 metros;
- d) 22.300 metros;



22. Dona Marta gastou dois terços de duas dúzias de ovos para fazer um bolo para os funcionários da prefeitura municipal de Porto União. Quantos ovos ela gastou?

- a) 8 ovos;
- b) 12 ovos;
- c) 14 ovos;
- d) 16 ovos;

23. O senhor Paulo gasta 22% do seu salário para pagar o aluguel e 36% para pagar a faculdade do filho. Se o salário de Paulo é de R\$ 1.450,00, quanto sobra para ela após ter realizado os dois pagamentos?

- a) R\$ 319,00
- b) R\$ 522,00
- c) R\$ 609,00
- d) R\$ 841,00

24. Foi realizada uma pesquisa com os funcionários da prefeitura de Porto União para identificar qual é o tipo de esporte praticado por eles nos momentos de folga. Foram encontrados os resultados abaixo:

- 45 funcionários praticam caminhada;
- 30 funcionários jogam futebol;
- 12 funcionários jogam futebol e praticam caminhada;
- 18 funcionários não fazem atividade física;

Qual foi o número de funcionários entrevistados?

- a) 81 funcionários;
- b) 87 funcionários;
- c) 93 funcionários;
- d) 105 funcionários;

25. Marcos é um menino muito inteligente e gosta de brincar de fazer mágicas e truques matemáticos. Ele perguntou para a sua mãe:

“Pense um número, multiplique este número por dois. Some 14 ao resultado encontrado. agora divida o resultado da adição por dois. quanto deu?”

A Mãe respondeu que o resultado deu 18. Neste contexto qual foi o número que a mãe “pensou”?

- a) 4
- b) 6
- c) 8
- d) 11

26. Três elevado a um número e somado com cinco dá quatorze. Qual é o valor de x ?

- a) 2
- b) 3
- c) 4
- d) 6

27. A imagem abaixo mostra as cartas de um baralho comum.



Sabemos que este baralho apresenta 52 cartas diferentes. Neste contexto, se este baralho for embaralhado, e uma pessoa tirar uma carta aleatória, qual é a chance, aproximadamente, desta carta ser um oito?

- a) 3,2%
- b) 7,6%
- c) 12,3%
- d) 16,5%

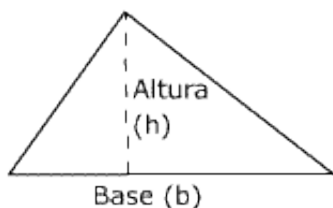
28. Próximo da Prefeitura municipal de Porto União existe um terreno baldio de 54m^2 de área. Para evitar que as pessoas depositem lixo neste terreno a prefeitura pretende cercar o mesmo. Sabe-se que o comprimento do terreno é três metros maior que a largura. Neste contexto, quantos metros de tela serão necessários para cercar o terreno?

- a) 12 metros de tela;
- b) 18 metros de tela;
- c) 24 metros de tela;
- d) 30 metros de tela;

29. Dona Maria aplicou R\$ 8.600,00 em uma poupança por um ano. Sabe-se que ao final deste período ela resgatou R\$ 11.696,00. Qual foi a taxa de juros simples mensal pago pela poupança?

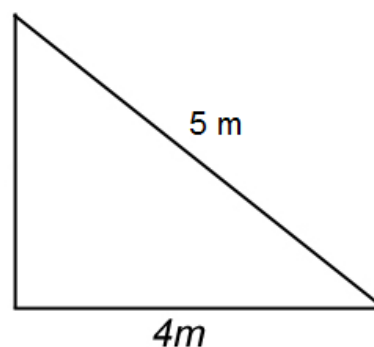
- a) 0,03 % a.m.
- b) 0,3 % a.m.
- c) 3 % a.m.
- d) 30 % a.m.

30. Para calcular a área de um triângulo faz-se necessário utilizar a regra matemática abaixo:



$$A = \frac{\text{Base} \times \text{Altura}}{2}$$

$$A = \frac{b \times h}{2}$$



Tendo como referencia o triângulo da figura ao lado, é correto afirmar que sua área é de:

- a) 3 m²
- b) 6 m²
- c) 7,5 m²
- d) 10 m²

CONHECIMENTOS ESPECÍFICOS

31. Conforme contempla o artigo 10 do estatuto do idoso (lei 10.741/2003)

“É obrigação do estado e da sociedade assegurar à pessoa idosa a liberdade, o respeito e a dignidade como pessoa humana e sujeito de direitos civis, políticos, individuais e sociais garantidos na Constituição e nas leis”.

§ 1 - O direito a liberdade compreende entre outros os seguintes aspectos:

I – Faculdade de ir e vir, estar nos logradouros públicos e espaços comunitários, ressalvadas as restrições legais;

II – Direito a espaços reservados no trânsito, locais públicos, transporte público e repartições públicas;

III – Crença e Culto religioso;

IV – Opinião e expressão;

V – Tratamento preferencial nos espaços de trabalho e espaços de lazer conforme normativa vigente;

VI – Prática de esportes e de diversões;

VII – Participação na vida familiar e comunitária;

VIII – Participação na vida política, na forma da lei;

IX – Faculdade de buscar refúgio, auxílio e orientação;

Dos aspectos citados escolha a opção que contempla os VERDADEIROS conforme citação da lei:



- a) São verdadeiras todas as opções;
- b) São verdadeiras as opções: I, II, III, IV, V, VI, VII e VIII;
- c) São verdadeiras as opções: I, III, IV, VI, VII, VIII e IX;
- d) São verdadeiras as opções: I, II, III, IV, VI, VII, VIII e IX;

32. O artigo 17 do Estatuto da Criança e do Adolescente - ECA (Lei 8069/90) diz:

“O direito ao respeito consiste na da integridade física, psíquica e moral da criança e do adolescente, abrangendo a preservação da imagem, da identidade, da autonomia, dos valores, ideias e crenças, dos espaços e objetos pessoais.”

Escolha entre as opções dadas qual a palavra que completa o artigo citado:

- a) Segurança;
- b) Inviolabilidade;
- c) Garantia;
- d) Manutenção.

33. O Artigo 1º do código de ética do Psicólogo versa sobre os deveres fundamentais do profissional. Conforme esse documento, quantos deveres foram listados?

- a) 10 deveres fundamentais;
- b) 11 deveres fundamentais;
- c) 12 deveres fundamentais;
- d) 13 deveres fundamentais.

34. O artigo 6º do código de ética do Psicólogo orienta sobre o relacionamento com profissionais não Psicólogos destacando duas principais diretrizes. De acordo com o código, escolha entre as opções destacadas quais são estas duas diretrizes.

- a) Encaminhará a profissionais ou entidades habilitados e qualificados, demandas que extrapolem o seu campo de atuação / O compartilhamento se dará apenas verbalmente e informações coletadas fisicamente ficarão sob a guarda do psicólogo, conforme preconiza o código de ética da profissão;
- b) Encaminhará a profissionais ou entidades habilitados, qualificados e balizados pelo Conselho Regional de Psicologia / É resguardado total direito da guarda das informações confiados pelo paciente, salvo em situações que atestem contra a sua dignidade física ou psíquica;
- c) Somente encaminhará às profissionais que obedeçam aos quesitos destacados no artigo 15º / As informações serão mantidas em sigilo, podendo o Psicólogo repassar a outro profissional somente em casos determinados pela justiça;
- d) Encaminhará a profissionais ou entidades habilitados e qualificados, demandas que extrapolem o seu campo de atuação / Compartilhará somente informações relevantes para qualificar o serviço prestado, resguardando o caráter confidencial das comunicações, assinalando a responsabilidade, de quem as receber, de preservar o sigilo.



35. Jean Piaget após minuciosas observações concluiu que o progresso das crianças passa por estágios específicos. Em um desses estágios as crianças passam a ser menos egocêntricas e podem usar o pensamento para resolver problemas reais. Pensam logicamente porque podem levar em conta vários aspectos em vez de focalizar em apenas um. No entanto ainda estão inclinadas a pensarem no “aqui e agora” e não são capazes de pensar em termos hipotéticos sobre o que *poderia ser* em vez de sobre o *que é*.

A esse estágio Piaget deu o nome de:

- a) Estágio das Operações Formais;
- b) Estágio Operatório Concreto;
- c) Estágio Sensório motor;
- d) Estágio Pré Operatório.

36. Há vários indícios sugerindo que conexões entre os estímulos ambientais e as transformações neurobiológicas podem tanto diminuir o risco quanto exacerbar os comportamentos relacionados à adição (KAPCZINSKI, QUEVEDO e ISQUIERDO, 2004). Alguns estudos mostram que certos fatores podem reduzir a autoadministração de drogas, particularmente da cocaína. Assinale a opção que relata esses fatores segundo os autores:

- a) Culturais e sociais, Interpessoais, Psicocomportamentais e Biogenético;
- b) Sociais, Comportamentais, Biológico e Cognitivo;
- c) Psicológicos, Culturais, Relacionais e Neurológicos;
- d) Culturais e sociais, Interpessoais, Psicossociais e Biológicos.

37. A associação entre o funcionamento catecolaminérgico no sistema nervoso central e a impulsividade tem sido exaustivamente estudada (KAPCZINSKI, QUEVEDO e ISQUIERDO, 2004). Os principais sistemas de neurotransmissão envolvidos na regulação da impulsividade são:

- a) Sistema serotoninérgico, Sistema noradrenérgico e Sistema dopaminérgico;
- b) Sistema Glutamatônico, Sistema noradrenérgico e Sistema Metaloninâmico;
- c) Sistema Serotoninérgico, Sistema Metaloninâmico e Neurotensinâmico;
- d) Sistema noradrenérgico, Sistema Glutamatônico e Sistema serotoninérgico.

38. Compreender que um filho tem uma deficiência é um processo que vai além do mero conhecimento do fato. Como qualquer acontecimento doloroso, a assimilação desta situação leva um tempo e, em alguns casos, nunca chega a ser completa. Processo semelhante à perda de um ente querido e as etapas que os pais trilham até a aceitação da deficiência do filho são muito similares as do luto (COLL, MARCHESI e PALÁCIOS). Segundo os autores, quais as reações (fases) mais frequentes que ocorrem desde que os pais constatarem a deficiência até chegar a sua aceitação?

- a) Negação, Aceitação, Assimilação e Reação;
- b) Fase do Choque, Negação intermediária, Aceitação e Conclusão;
- c) Choque inicial, Negação intermediária, Aceitação parcial e Aceitação Plena;
- d) Fase do choque, Negação, Fase da reação, Fase de adaptação e orientação.



39. As colunas abaixo apresentam de modo resumido as principais abordagens teóricas das emoções e dos afetos e sinaliza o foco da pesquisa e das análises sobre o assunto, conforme premissas adotadas por cada uma delas. Correlacione-as conforme resumiu Strongman (apud ZANELLI, BORGES-ANDRADE e BASTOS, 2004) e escolha a sequência correta.

- a) **Filosofia**
- b) **Fisiologia**
- c) **Fenomenologia**
- d) **Comportamental**
- e) **Cognitiva**
- f) **Clínica**
- g) **Social**

- () Distúrbios da emoção
- () Expressões, verbais, gestuais, faciais, etc.
- () Avaliação subjetiva da emoção
- () Sentido da vida
- () Funções no processo evolutivo
- () Experiência Consciente
- () Estímulos externos que eliciam emoções

A sequência correta de cima para baixo é:

- a) A, C, D, G, B, E, F
- b) C, D, B, F, A, E, G
- c) F, G, E, A, B, C, D
- d) D, G, E, F, A, B, C

40. Segundo Zanelli, Borges-Andrade e Bastos (2004) as equipes de trabalho, após seu nascimento passam por diferentes fases até atingir o estágio em que o desempenho das tarefas é favorecido. Escolha a opção que contempla tais fases.

- a) Integração, Conflito, Normas e regras, Desempenho e Desintegração;
- b) Formação, Conflito, Normatização, Desempenho e Desintegração;
- c) Formação básica, Adaptação, Conflito, Normatização e Desintegração;
- d) Formação Inicial, Conflito, Desempenho e Desintegração.

41. A teoria do poder organizacional contempla um grande número de dimensões de poder e de modo inédito, explica a intensa dinâmica do comportamento organizacional focalizando o poder nos níveis individual e coletivo, interno e externo, intra e entre grupos (Zanelli, Borges-Andrade e Bastos, 2004). Segundo as opções relacionadas, escolha a que configura os tipos de poder organizacional.

- a) Autocracia, Instrumento, Missionária, Meritocracia, Sistema autônomo (ou sistema fechado) e Arena Política;
- b) Meritocracia, Sistema autônomo, Burocracia e Tradicional;
- c) Coercitiva, Poder tradicional e poder de legitimidade;
- d) Autocracia, Tradicional, Burocracia e Coercitiva.



42. Segundo Zimerman (2000) Angústia, Histeria, Obsessivo-compulsiva, fobia e depressão podem ser alocadas em qual tipo de estruturas:

- a) Psicóticas;
- b) Psicossomáticas;
- c) Neuróticas;
- d) Transtornos de Conduta.

43. Com base nas conceituações da teoria psicanalítica existem três aspectos que se constituem como coluna-mestra na formação dos processos inconscientes que gravitam no campo grupal sendo a ansiedade uma delas (ZIMERMAN, 2000).

“... Na escala evolutiva essa ansiedade é a mais primitiva de todas e corresponde a uma provável sensação da criança de que ela e seu corpo irão se desintegrar em pedaços. Isso se deve em grande parte ao fato de que o aparelho mental do bebê ainda não tem uma maturação neurobiológica capaz de absorver o formidável impacto de estímulos externos e internos...”.

Com base na descrição acima assinale qual o tipo de ansiedade correspondente:

- a) Ansiedade de Aniquilamento;
- b) Ansiedade de Desamparo;
- c) Ansiedade de Separação;
- d) Ansiedade de Castração.

44. A expressão alude a observação, real ou fantasiada que a criança faz do coito dos pais. Nos primeiros tempos deu uma importância extraordinária a esse fato afirmando que a raramente falta no tesouro das fantasias inconscientes que se podem descobrir em todos os neuróticos e, provavelmente, em todos os filhos dos homens.

..... afirmava que mesmo nos casos que não tenha havido uma observação direta, indícios indiretos, como ruídos provindos do quarto dos pais, poderiam funcionar como fator determinante da (ZIMERMAN, 2001).

O texto acima ressalta uma expressão utilizada na psicologia e seu devido autor. Com base no texto e nas premissas anunciadas, complete os espaços em brancos com as informações que seguem conforme sequência de palavras dadas:

- a) Escopofilia, Kohut, Escopofilia, Kohut, Escopofilia;
- b) Cena Primária, Freud, Cena Primária, Freud, Cena Primária;
- c) Clivagem, Freud, Clivagem, Freud, Clivagem;
- d) Criatividade Primária, Winnicott, Criatividade Primária, Winnicott, Criatividade Primária;

45. Essa expressão introduzida na psicanálise por Winnicott alude á uma de suas mais brilhantes e originais concepções que dizem respeito aos fenômenos psíquicos que acompanham a transição que o bebê faz do mundo imaginário para o mundo da realidade. Essa transição é enfocada por Winnicott no seu tríplice aspecto que aborda os *Fenômenos*, o *Espaço* e os *Objetos Transicionais*, (ZIMERMAN, 2001).

Assinale a opção dentre as dispostas abaixo:

- a) Desenvolvimento psíquico;
- b) Integração;
- c) Personalização;
- d) Fenômenos Transicionais.



46. Pelo fato de Freud compreender todo o funcionamento da personalidade como derivado da energia instintiva, o conhecimento dos princípios fundamentais que regulam os instintos fornece uma estrutura básica para se compreender a personalidade. Segundo Cloninger (2003) Eles podem ser resumidos em alguns aspectos básicos dos instintos. São eles:

- a) Fonte, Pressão, Meta e Objeto;
- b) Id, Ego e Superego;
- c) Psique, inconsciente e sujeito;
- d) Pré-consciente, Consciente e Inconsciente.

47. O termo Movimento de Hipérbole (Eilzirik et al, 2004) designa um tipo de transformação no qual há uma intensa deformação dos fatos originais. Na situação clínica pode se manifestar como uma tentativa desesperada de o paciente se fazer entender pelo seu analista através do exagero dos sintomas, do uso superlativo da linguagem e por meio de identificações projetivas excessivas. Costuma acontecer com pacientes que não estão se sentindo escutados, tampouco, compreendidos pelo seu terapeuta. Qual autor empregou esse termo na sua teoria?

- a) Donald Winnicott;
- b) Heinz Kohut;
- c) Wilfred Bion;
- d) Margareth Mahler.

48. A descrição feita por Jung dos tipos de personalidade é um dos aspectos mais objetivos e menos místicos da sua teoria. Entre outras coisas ela ajuda explicar porque algumas pessoas se apegam com entusiasmo a suas descrições da experiência mística e mitológica, ao passo que outras as descartam com disparates não científicos. Cloninger (2003) pontua que a diferença depende do tipo psicológico, ou seja, dos grupos de pessoas baseados nas três principais dimensões da personalidade descritas por Jung. Assinale-as conforme opções abaixo:

- a) Função auxiliar, Função dominante e Pensamento;
- b) Introversão x Extroversão – Pensamento x Sentimento – Sensação x Intuição;
- c) Sincronicidade, Visão simbólica e Função Auxiliar;
- d) Introvertido, extrovertido e Coerente.



49. Existem evidências suficientes justificando o uso de técnicas psicoterápicas específicas com esquizofrênicos, por melhorar a adesão do paciente ao tratamento e a medicação, facilitar a sua reabilitação e melhorar a aliança terapêutica. Algumas situações clínicas são comuns nesse pacientes e requerem manejos psicoterápicos com técnicas específicas. Um dos sintomas mais comuns nesse tipo de paciente são os predominantemente PARANÓIDES e algumas técnicas de manejo específicas são recomendadas (CORDIOLI, 2008). Das técnicas de manejo citadas escolha a que não é recomendada.

- a) Posição corporal não ameaçadora: Sentar lado a lado com o paciente, evitando o contato visual direto;
- b) Falar de forma indireta, usando o pronome na terceira pessoa em vez de usá-lo na primeira. Seria um equivalente verbal da posição lado a lado e redireciona as posições do paciente da relação interpessoal para o mundo externo;
- c) Reciprocidade de tom emocional: expressar atitudes e emoções paralelas às do paciente sem corrigi-las ou interpretá-las fazendo com que ele se sinta compreendido;
- d) Falar de forma direta, usando o pronome na primeira pessoa transmitindo confiança e empatia. Seria um equivalente verbal da posição lado a lado e redireciona as posições do paciente da relação interpessoal para o mundo externo.

50. O campo da psicoterapia de orientação analítica na infância responde a necessidades crescentes de cuidados à população nessa etapa da vida. Caracteriza-se como umas das terapias da fala que focaliza, sobretudo, a relação entre o psicoterapeuta e seu paciente, e que herdou da psicanálise importantes contribuições. A psicoterapia de orientação analítica aplicada a crianças e adolescentes pressupõe treinamentos teóricos e técnicos específicos. Os analistas de crianças foram os pioneiros nessa direção porque o trabalho com crianças os fez reconhecer as limitações da técnica tradicional. Eles têm como objetivo a melhora da qualidade de vida do paciente e com este fim estabelecem um relacionamento afetivo com o seu paciente, buscando dar sentido ao que acontece entre eles, e criam condições para elaboração e exploração de pensamentos e comportamentos (CORDIOLI, 2008). No entanto deve-se considerar algumas especificidades em relação à psicoterapia de crianças:

- I. Linguagem, capacidade cognitiva e vivências devem ser avaliadas de acordo com a etapa evolutiva da criança;
- II. Compreensão limitada sobre os motivos da indicação do tratamento e sobre seus benefícios na vida atual e futura;
- III. Menor capacidade para suportar a dor psíquica;
- IV. Maior grau de confusão e temor ao acercar-se intimamente de um estranho;
- V. Dependência física e emocional dos pais.

Dentre as especificidades citadas acima ante as regras da psicoterapia de orientação analítica aplicada a crianças, escolha a mais coerente segundo o autor citado:

- a) I, II, VI e V estão corretas;
- b) I e V estão corretas;
- c) Todas estão corretas;
- d) Todas estão erradas.