



MUNICÍPIO DE PORTO UNIÃO (SC)



CONCURSO PÚBLICO Nº 001/2015 CADERNO DE PROVAS CARGO: MÉDICO PSF

1. Os telefones celulares e outros equipamentos eletrônicos deverão ser desligados antes do início da prova;
2. Você está recebendo um caderno de provas com 50 questões de múltipla escolha, com 4 alternativas de respostas cada, sendo que apenas 1 alternativa estará correta;
3. Para a realização da Prova Escrita, o candidato deverá utilizar apenas caneta esferográfica, de tinta azul ou preta;
4. Verifique se o caderno de provas está completo, sem falhas de impressão e se a quantidade de questões está de acordo com o informado acima. Confira também se sua prova corresponde ao cargo para o qual você se inscreveu. Caso haja qualquer divergência, comunique o fato ao fiscal imediatamente;
5. Além do caderno você está recebendo um cartão resposta, complete as informações e assine o cartão;
6. Você deverá transcrever as respostas das questões objetivas para o cartão resposta, que será o único documento válido para a correção das provas. O preenchimento do cartão resposta é de inteira responsabilidade do candidato. Este cartão **não** será substituído em caso de erro do candidato;
7. Durante a realização das provas é vedada a consulta a livros, revistas, folhetos ou anotações, bem como, o uso de máquinas de calcular, relógios e aparelhos celulares, ou ainda, qualquer equipamento elétrico ou eletrônico, sob pena de eliminação do candidato do concurso público;
8. No decurso da Prova o candidato somente poderá ausentar-se temporariamente da sala se acompanhado por um fiscal.
9. Você terá 4 horas para a realização da prova, incluindo o tempo para preenchimento do cartão-resposta.
10. O candidato somente poderá retirar-se definitivamente da sala de Prova após 60 minutos de seu início.
11. Os 3 últimos candidatos de cada sala somente poderão entregar as suas provas e retirar-se definitivamente do local simultaneamente, depois de haver rubricado o verso de todos os cartões resposta, bem como, o envelope lacrado contendo todos os cartões resposta da sala.
12. Para o PREENCHIMENTO DO CARTÃO RESPOSTA marque somente uma alternativa preenchendo totalmente o círculo, evitando ultrapassar a linha que margeia a letra. Não faça um X ou qualquer outra marca.

OBS: Você pode destacar esta folha. Utilize o verso para fazer suas anotações.



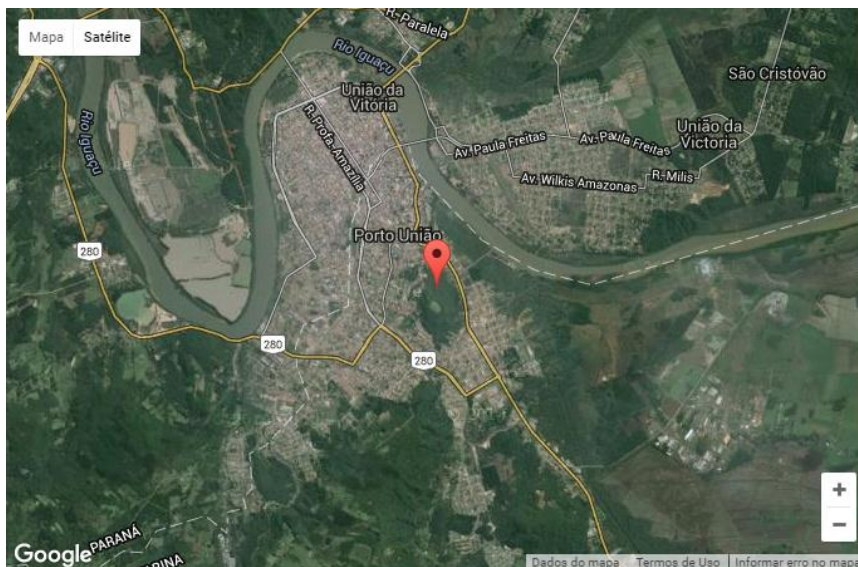
MUNICÍPIO DE PORTO UNIÃO (SC)



CONHECIMENTOS GERAIS E ATUALIDADES

1. O município de Porto União foi fundado em 5 de setembro de 1917 e tem hoje 34.551 (estimativa IBGE 2013). Está localizado no planalto norte catarinense, distante a 430 km de Florianópolis, 240 km de Curitiba e 271 km de Joinville. O município possui infraestrutura típica de cidade pequena com comércio, serviços e indústrias diversificados. Une-se há apenas um passo da cidade irmã, União da Vitória, no Paraná. As duas cidades são separadas apenas por trilhos de trem e ladeadas pelo Rio Iguaçu.

Fonte: <http://www.portouniao.sc.gov.br/>



Nesse enfoque, além de União da Vitória, é município limítrofe de Porto União, exceto:

- a) Paula Freitas
- b) Matos Costa
- c) Timbó Grande
- d) General Carneiro

2. Leia o recorte que segue:

“Atualmente o Ministério da Saúde está investigando 4.268 casos suspeitos da malformação fetal. O Ministério da Saúde e os estados investigam 4.268 casos suspeitos de microcefalia em todo o país. Isso representa 65,9% dos casos notificados. O novo informe divulgado nesta quarta-feira (16) aponta, também, que 2.212 casos foram investigados e classificados, sendo 1.349 descartados e 863 confirmados para microcefalia e outras alterações do sistema nervoso, sugestivos de infecção congênita. Ao todo, foram notificados 182 óbitos por microcefalia e/ou alteração do sistema nervoso central após o parto (natimorto) ou durante a gestação (abortamento ou natimorto). Destes, 40 foram confirmados para microcefalia e/ou alteração do sistema nervoso central. Outros 124 continuam em investigação e 18 já foram descartados. Do total de casos de microcefalia confirmados, 97 foram notificados por critério laboratorial específico para o Zika vírus. No entanto, o Ministério da Saúde ressalta que esse dado não representa, adequadamente, a totalidade do número de casos relacionados ao vírus. A pasta considera que houve infecção pelo Zika vírus na maior parte das mães que tiveram bebês, cujo diagnóstico final foi de microcefalia”. Fonte: Publicação do dia 17/03/2016 no site minha vida- saúde, alimentação e bem-estar-<http://www.minhavidacom.br/>.

A microcefalia é o resultado do crescimento abaixo do normal do cérebro da criança ainda no útero ou na infância. A microcefalia pode ser genética. Algumas outras causas da microcefalia são, exceto:

- a) Desnutrição grave na gestação.
- b) Toxoplasmose congênita na gravidez.
- c) Formação adequada do sistema nervoso central.
- d) Exposição a drogas, álcool e certos produtos químicos na gravidez.



3. Segundo o site www.portouniao.sc.gov.br, o primeiro nome do município de Porto União, foi Porto da União, devido à passagem do Rio Iguazu nesse lugar ser de baixa profundidade que facilitou a passagem das tropas que vinham dos campos de Palmas e ser também o ponto de embarque e desembarque para quem usava o rio Iguazu como meio de transporte. Esse povoado, que deu origem a cidade começou em que ano?

- a) 1842.
- b) 1855
- c) 1901
- d) 1917

4. O Brasil, juntamente com Rússia, Índia e China e África do Sul, formam o BRICS. O termo BRIC foi criado em 2001 pelo economista inglês Jim O'Neill para fazer referência a estes países emergentes que possuem características comuns como, por exemplo, bom crescimento econômico. Nesse contexto, analise as proposições a seguir assinalando V para verdadeiras e F para as falsas, para as semelhanças dos países supracitados:

- Mão-de-obra em grande quantidade e em processo de qualificação;
- Níveis de produção e exportação em crescimento;
- Boas reservas de recursos minerais;
- Insignificantes investimentos em setores de infra-estrutura (estradas, ferrovias, portos, aeroportos, usinas hidrelétricas);
- Índices sociais em processo de melhorias;
- Investimentos de empresas estrangeiras nos diversos setores da economia.

A sequência correta de cima para baixo está na alternativa:

- a) V,F,F,F,V,V.
- b) V,V,V,F,V,V.
- c) V,V,V,F,V,F.
- d) F,F,F,V,V,F.

5. Leia o recorte da notícia a seguir:

“Explosões em **Bruxelas** deixaram mais de 30 mortos e pelo menos 100 feridos nesta terça-feira (22). Duas explosões ocorreram às 8 horas da manhã no horário local – 4h horário de Brasília. Atingiram a área de embarque do Aeroporto Internacional de Zaventem. As autoridades acreditam que um dos explosivos foi acionado por um homem-bomba. Mais tarde outra explosão ocorreu no metrô Maelbeek perto do Parlamento Europeu...” Fonte:<http://epoca.globo.com/tempo/noticia/2016/03/atentados-em-bruxelas-fazem-mortos-no-aeroporto-e-no-metro.html>.

A cidade citada na reportagem é a capital de qual país europeu?

- a) Luxemburgo
- b) Polônia
- c) Ucrânia
- d) Bélgica



6. No início do ano de 2016, um país lançou mísseis balísticos, ou seja, mísseis com trajetórias pré-determinadas, na costa asiática banhada pelo Oceano Pacífico, fazendo a ONU- Organização das Nações Unidas e algumas potências mundiais prestarem mais atenção nele, fala-se de:

- a) Vietnã
- b) Coreia do Sul
- c) Coreia do Norte
- d) Filipinas

7. Leia o texto que segue:

“A história está repleta de atentados terroristas. Os mais recentes que chocaram o Ocidente aconteceram em Paris: os ataques ao jornal francês Charlie Hebdo em janeiro de 2015 e a série de ataques coordenados, com explosões e tiroteios em seis diferentes locais da cidade em novembro do mesmo ano. Os dois atentados foram assumidos pelo Estado Islâmico (EI). Em nota, o grupo radical islâmico afirma que os atentados são retaliações motivadas pela participação do país europeu na coalizão contra o grupo na Síria e no Iraque. O Estado Islâmico é a face mais temida do terrorismo hoje. O grupo ocupou territórios da Síria e do Iraque, onde anunciou um califado islâmico. Sua luta é contra o modo de vida do Ocidente e pela unificação dos muçulmanos em um território. Seus atos são conhecidos pela crueldade como massacres em massa, decapitação de “infiéis” e a destruição de patrimônios da humanidade.”

Fonte: <http://vestibular.uol.com.br/>

Nesse contexto, além do Estado Islâmico, que alternativa aponta um grupo que não é considerado terrorista na atualidade?

- a) Al-Qaeda (A Base)
- b) Boko Haram (A educação ocidental é um pecado)
- c) IRA (Exército Republicano Irlandês)
- d) RDC (Conselho Dinamarquês para os Refugiados)

8. Num país democrático, as instituições precisam exercer suas atribuições a todo vapor. O atual sistema político do Brasil é baseado na [separação de poderes do Estado](#), com a divisão entre Executivo, Legislativo e Judiciário. O Judiciário deve respeitar os atos do Executivo ou do Legislativo. Porém, se esses poderes contrariarem a Constituição Federal de 1988 ou desrespeitarem algum direito fundamental, o Judiciário deve sair em defesa dos interesses da população e invalidar atos e leis do Congresso. O Judiciário é a mais alta Corte brasileira, exercendo importante papel no sistema de controle de constitucionalidade, bem como atuando em causas de competência originária, além de ser o foro por prerrogativa de função dos agentes públicos que compõem o mais alto escalão do esquema central do poder. (Adaptado de www.ibrajus.org.br)

O enunciado acima se refere a:

- a) Supremo Tribunal Federal
- b) Suprema Corte
- c) Conselho de Magistrados
- d) Corte Suprema da Justiça



9. Em novembro de 2015 o Brasil aprovou a Lei 13.185, considerado um marco jurídico de combate ao bullying e a primeira lei nacional que tem como objetivos prevenir e combater a prática da intimidação sistemática no país. A lei federal não é inédita. Alguns Estados e vários municípios já possuíam leis voltadas para combate esse tipo de agressão na escola. Sobre o bullying, assinale a alternativa incorreta:

- a) O bullying é definido como ato de violência física ou psicológica, intencional e repetitivo que ocorre sem motivação evidente, praticado por indivíduo ou grupo, contra uma ou mais pessoas.
- b) Os processos judiciais envolvendo bullying são baseados em leis como o ECA (Estatuto da Criança e do Adolescente), a Constituição, o Código de Defesa do Consumidor, exceto o Código Penal.
- c) Segundo a lei, o comportamento pode ser classificado como: verbal (insultar, xingar e apelidar pejorativamente), moral (difamar, caluniar, disseminar rumores), sexual (assediar, induzir ou abusar), psicológico (perseguir, amedrontar, aterrorizar, intimidar, dominar, manipular, chantagear e infernizar), físico (socar, chutar, bater), material (furtar, roubar, destruir pertences de outrem) e virtual (violência na internet).
- d) São exemplos de bullying: acusar sistematicamente a vítima de não servir para nada; ataques físicos repetidos contra uma pessoa, seja contra o corpo dela ou propriedade; espalhar rumores negativos sobre a vítima.

10. Em relação à população mundial analise as proposições a seguir:

- I-A população mundial atual ultrapassa os 7.000.000.000 pessoas.
- II-O Brasil tem a menor população da América do Sul.
- III-A Índia é o país mais populoso do mundo.
- IV- Cingapura está entre os países com maior densidade demográfica do globo.

Assinale a alternativa correta:

- a) Somente as afirmativas I e II são verdadeiras.
- b) Somente as afirmativas III e IV são verdadeiras.
- c) Somente as afirmativas I e IV são verdadeiras.
- d) Somente as afirmativas II e IV são verdadeiras.

LÍNGUA PORTUGUESA

11. Numa palavra, nem sempre há o mesmo número de letras e fonemas. Letras e fonemas apresentam conceitos distintos, letra é representação gráfica do fonema; já o fonema é a representação sonora. Com base nisso, assinale a alternativa em que todas as palavras tenham o mesmo número de fonemas:

- a) Espinhos, terrível, deixando, estrada;
- b) Estradão, berrante, mulungus, espinhos;
- c) Mandacarus, companheiros, retorcidos, boiadeiro;
- d) Espinhos, mulungus, aroeiras, berrante.

12. Assinale a alternativa em que todas as palavras tenham a mesma classificação quanto a sílaba tônica:

- a) Mandacarus, mulungus, estradão, sinais;
- b) Espinhos, mandacarus, passagem, expõem;
- c) Terrível, mulungus, boiadeiro, espinhos;
- d) Retorcidos, mandacarus, berrante, estradão;

Leia e depois responda à questão 13 e 14:



13. A tira acima faz alusão ao uso da crase. Nas frases a seguir empregou-se corretamente a crase, exceto em uma das frases da alternativa:

- a) Fui a Lisboa receber o prêmio. / Paulo começou a falar em voz alta.
- b) Pedimos silêncio a todos. Pouco a pouco, a praça central se esvaziava.
- c) Esta música foi dedicada a ele. / Os romeiros chegaram a Bahia.
- d) Bateram a porta fui atender. / O carro entrou a direita da rua.

14. Dadas as frases:

- I – O candidato falou às classes trabalhadoras.
- II – Estou aqui desde as sete horas, mas sairei as nove, sem falta.
- III - Saíram e deixaram-me a espera dos outros.
- IV – Você só poderá ser atendido às dez horas.
- V – Graças a inteligência e a dedicação, o aluno venceu.

Análise as frases quanto ao uso da crase e assinale a alternativa que apresenta as que estão corretas:

- a) I, II e V;
- b) I, III e IV;
- c) II, IV e V;
- d) II, III e IV.

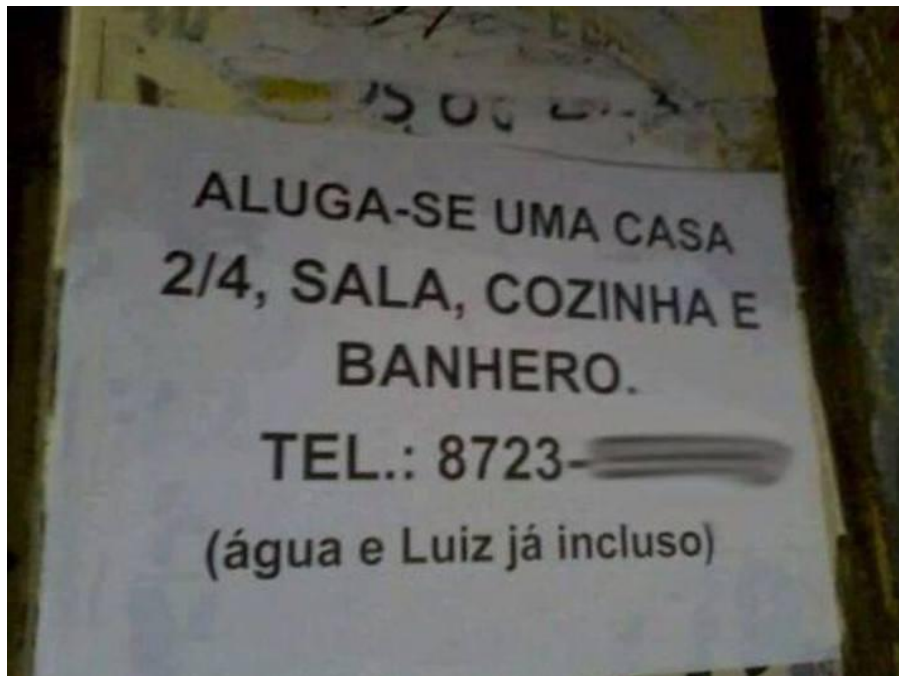
15. A pontuação na linguagem funciona como uma espécie de sinalização, guiando e organizando o texto a ser lido. Como num trânsito, os sinais apontam onde deve haver pausas ou o que chama a atenção. Assim, uma mesma frase pode apresentar sentidos diferentes, dependendo de como está pontuada. Nesta perspectiva leia as frases a seguir:

- I. **Meu pai chegou? Não vou esperá-lo!**
- II. **Meu pai chegou? Não? Vou esperá-lo!**

É correto afirmar:

- a) As duas frases indicam que a pessoa não vai esperar o pai.
- b) A frase I indica que a pessoa não quer esperar o pai e a frase II indica que a pessoa vai esperá-lo.
- c) A frase I indica que a pessoa quer esperar o pai e a frase II indica que a pessoa não vai esperá-lo.
- d) As duas frases indicam que a pessoa vai esperar pelo pai.

16. Considerando a ortografia e a concordância utilizada no anúncio abaixo, assinale a alternativa incorreta:



- a) Pelo contexto do anúncio, é possível entender que 2/4 foi usado como forma abreviada (alternativa) de “dois quartos”(dois cômodos);
- b) Se Luiz foi usado com a intenção de referir-se a luz (energia elétrica), a construção correta da frase seria: água e luz já inclusos;
- c) Há um erro ortográfico na palavra “BANHERO” que foi escrita com o intuito de escrever “banheiro”;
- d) Considerando que não haja erro ortográfico em (água e Luiz já incluso), a construção correta deveria ser “água e Luiz já inclusa”;

17. Considere as frases:

I - Envio-lhes, inclusas, as certidões./ Incluso segue o documento.

II - Os documentos seguiram inclusos às fichas de inscrição./ A fotografia vai anexa ao currículo.

III - Estão inclusas as passagens no pacote./ As fotografias vão em anexo.

IV - Remeto a V.S.as., incluso nesta pasta, uma fotocópia do recibo. / Os documentos irão anexos ao relatório.

Com relação a concordância de anexo e incluso (e variações) não apresentam erro os pares de frases:

- a) I, II e III;
- b) II, III e IV;
- c) I e II;
- d) II e IV;

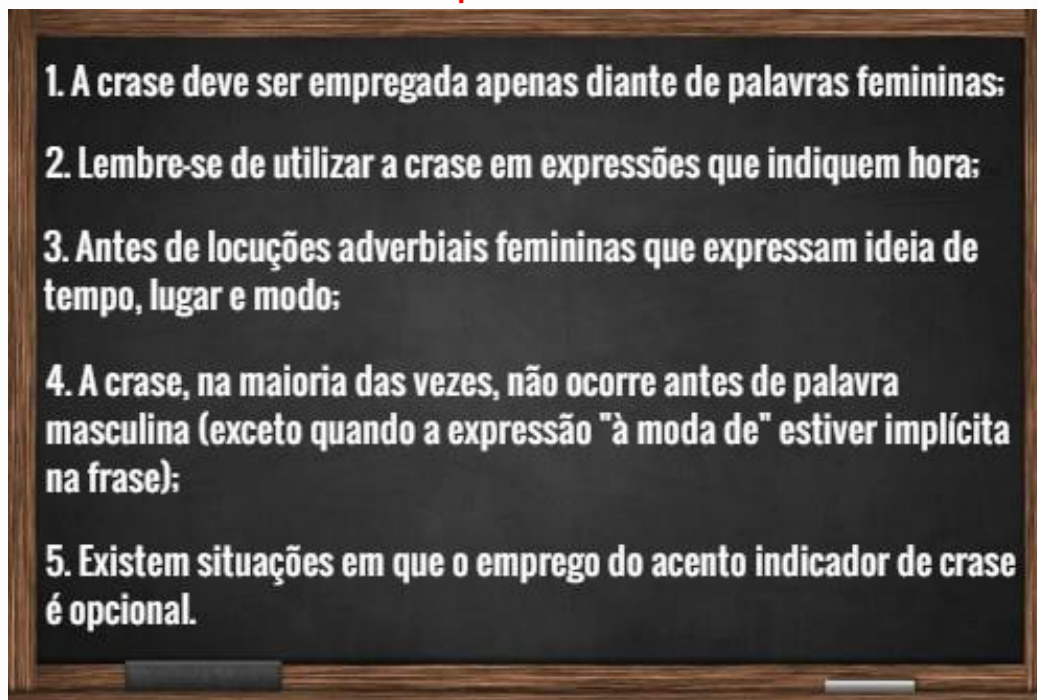
18. Sobre o anúncio abaixo estão corretas as considerações da alternativa:



- a) A palavra FACHETÁRIA é exemplo de composição por justaposição e seu significado tem a ver com: idade (pessoas da mesma idade); “2 à 10 anos” deveria ser escrito sem o acento indicador da crase (2 a 10 anos);
- b) A palavra FACHETÁRIA é exemplo de composição por aglutinação e seu significado tem a ver com: idade (pessoas da mesma idade); “2 a 10 anos” deveria ser escrito sem o acento indicador da crase (2 a 10 anos);
- c) A grafia correta de FACHETÁRIA é faixa etária e seu significado tem a ver com: idade (pessoas da mesma idade); “2 à 10 anos” deveria ser escrito sem o acento indicador da crase (2 a 10 anos);
- d) A grafia correta de FACHETÁRIA é faixetária e seu significado tem a ver com: idade (pessoas da mesma idade); o acento indicador da crase foi corretamente empregado em “2 à 10 anos”;

19. Atente para as dicas sobre crase e depois responda:

Cinco dicas simples sobre o uso da crase:



As dicas acima estão relacionadas ao uso da crase. Com base nelas e nas demais regras que regem o seu uso, assinale a resposta incorreta:

- a) Marcaram o encontro no restaurante para as 20h.
- b) Fique tranquilo, eu estarei no trabalho até as 9h.
- c) Carlos fez um pedido à Mariana.
- d) Eles viajaram à bordo de uma aeronave moderna.

20. Veja a propaganda que vende copos plásticos a preços promocionais:



GS Plásticos

Copos de plástico de várias cores.
Capacidade: 330ml

R\$ 1,99
CADA

LEVE 2 POR R\$ 3,50

Assinale a alternativa que não está de acordo com o texto:

- a) Conforme informação, os copos oferecidos no anúncio são de cores diferentes;
- b) O anúncio sugere que é vantagem comprar dois copos de uma só vez;
- c) Comprar dois copos separadamente é mais caro que comprar dois de uma só vez;
- d) A informação contida no anúncio sugere comprar dois copos pelo preço de um.

MATEMÁTICA E RACÍOCÍNIO LÓGICO

21. Uma tartaruga consegue desenvolver uma velocidade máxima de 3 Km/h. Se esta tartaruga se deslocar por 36 minutos, qual será a distância percorrida por ela?

- a) 10.800 metros;
- b) 13.400 metros;
- c) 18.400 metros;
- d) 22.300 metros;



22. Dona Marta gastou dois terços de duas dúzias de ovos para fazer um bolo para os funcionários da prefeitura municipal de Porto União. Quantos ovos ela gastou?

- a) 8 ovos;
- b) 12 ovos;
- c) 14 ovos;
- d) 16 ovos;

23. O senhor Paulo gasta 22% do seu salário para pagar o aluguel e 36% para pagar a faculdade do filho. Se o salário de Paulo é de R\$ 1.450,00, quanto sobra para ela após ter realizado os dois pagamentos?

- a) R\$ 319,00
- b) R\$ 522,00
- c) R\$ 609,00
- d) R\$ 841,00

24. Foi realizada uma pesquisa com os funcionários da prefeitura de Porto União para identificar qual é o tipo de esporte praticado por eles nos momentos de folga. Foram encontrados os resultados abaixo:

- 45 funcionários praticam caminhada;
- 30 funcionários jogam futebol;
- 12 funcionários jogam futebol e praticam caminhada;
- 18 funcionários não fazem atividade física;

Qual foi o número de funcionários entrevistados?

- a) 81 funcionários;
- b) 87 funcionários;
- c) 93 funcionários;
- d) 105 funcionários;

25. Marcos é um menino muito inteligente e gosta de brincar de fazer mágicas e truques matemáticos. Ele perguntou para a sua mãe:

“Pense um número, multiplique este número por dois. Some 14 ao resultado encontrado. agora divida o resultado da adição por dois. quanto deu?”

A Mãe respondeu que o resultado deu 18. Neste contexto qual foi o número que a mãe “pensou”?

- a) 4
- b) 6
- c) 8
- d) 11

26. Três elevado a um número e somado com cinco dá quatorze. Qual é o valor de x ?

- a) 2
- b) 3
- c) 4
- d) 6

27. A imagem abaixo mostra as cartas de um baralho comum.



Sabemos que este baralho apresenta 52 cartas diferentes. Neste contexto, se este baralho for embaralhado, e uma pessoa tirar uma carta aleatória, qual é a chance, aproximadamente, desta carta ser um oito?

- a) 3,2%
- b) 7,6%
- c) 12,3%
- d) 16,5%

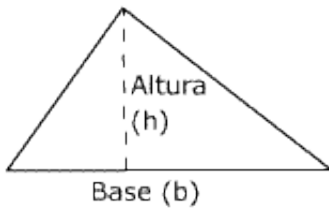
28. Próximo da Prefeitura municipal de Porto União existe um terreno baldio de 54m^2 de área. Para evitar que as pessoas depositem lixo neste terreno a prefeitura pretende cercar o mesmo. Sabe-se que o comprimento do terreno é três metros maior que a largura. Neste contexto, quantos metros de tela serão necessários para cercar o terreno?

- a) 12 metros de tela;
- b) 18 metros de tela;
- c) 24 metros de tela;
- d) 30 metros de tela;

29. Dona Maria aplicou R\$ 8.600,00 em uma poupança por um ano. Sabe-se que ao final deste período ela resgatou R\$ 11.696,00. Qual foi a taxa de juros simples mensal pago pela poupança?

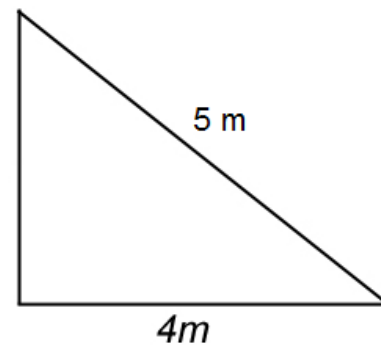
- a) 0,03 % a.m.
- b) 0,3 % a.m.
- c) 3 % a.m.
- d) 30 % a.m.

30. Para calcular a área de um triângulo faz-se necessário utilizar a regra matemática abaixo:



$$A = \frac{\text{Base} \times \text{Altura}}{2}$$

$$A = \frac{b \times h}{2}$$



Tendo como referencia o triângulo da figura ao lado, é correto afirmar que sua área é de:

- a) 3 m²
- b) 6 m²
- c) 7,5 m²
- d) 10 m²

CONHECIMENTOS ESPECÍFICOS

31 – Segundo a Lei orgânica municipal de Porto União, revisada e atualizada em 2011, Nos _____ primeiros anos da promulgação da Constituição Federal, o Município desenvolverá esforços com a mobilização de, pelo menos, _____% dos recursos a que se refere o Artigo 212 da Constituição Federal, para eliminar o analfabetismo e universalizar o ensino fundamental, como determina o Artigo 60 dos Atos das Disposições Constitucionais Transitórias. Assinale a alternativa correta respectivamente.

- a) cinco e quarenta
- b) dez e cinquenta
- c) quinze e sessenta
- d) nenhuma das alternativas

32 - Segundo a Lei orgânica municipal de Porto União, revisada e atualizada em 2011, Deverá haver controle especial no uso de agrotóxicos com instalação de abastecedores de pulverizadores em grupos de agricultores, incluindo no programa de _____ do Município exame toxicológico nos agricultores que trabalham com esses produtos químicos. Assinale a alternativa correta.

- a) agricultura
- b) meio ambiente
- c) saúde
- d) nenhuma das alternativas



33 - Segundo a Lei orgânica municipal de Porto União, revisada e atualizada em 2011, O Município aplicará, anualmente, nunca menos de ___%, da receita resultante de impostos, compreendida e proveniente de transferências, na manutenção e desenvolvimento do ensino e da saúde. Assinale a alternativa correta.

- a) 15
- b) 20
- c) 25
- d) 30

34 - Segundo a Lei orgânica municipal de Porto União, revisada e atualizada em 2011, É dever do Município, entre outros, prover a educação de: I - oferta de creches e pré-escola para crianças de _____ a _____ anos de idade; II - ensino profissionalizante para jovens e adultos, em qualquer tipo de atividade. Assinale a alternativa correta.

- a) 0 a 5
- b) 0 a 6
- c) 1 a 5
- d) 1 a 6

35 - Segundo a Lei orgânica municipal de Porto União, As contas do Município, revisada e atualizada em 2011, com a documentação exigida por lei, ficarão à disposição dos cidadãos durante _____ dias, a partir de quinze (15) de abril de cada exercício, no horário de funcionamento da Câmara Municipal, em local de fácil acesso ao público. Assinale a alternativa correta;

- a) 20
- b) 40
- c) 60
- d) 80

36 - Segundo a Lei orgânica municipal de Porto União, revisada e atualizada em 2011, Se até o dia____ de janeiro, o Prefeito ou o Vice-Prefeito, salvo motivo de força maior, devidamente comprovado e aceito pela Câmara Municipal, não tiver assumido o cargo, este será declarado vago. Assinale a alternativa correta.

- a) 1
- b) 5
- c) 10
- d) nenhuma das alternativas

37 - Segundo a Lei orgânica municipal de Porto União, revisada e atualizada em 2011, O Prefeito e o Vice-Prefeito não poderão, desde a posse, sob pena de perda de mandato? Assinale a alternativa correta.

- a) Firmar ou manter contrato com o Município ou com suas autarquias, empresas públicas, sociedades de economia mista, fundações ou empresas concessionárias de serviço público municipal;
- b) Ser proprietário, controlador ou diretor de empresa que goze de favorecimento decorrente de contrato celebrado com o Município ou nela exercer função remunerada;
- c) Patrocinar causas em que seja interessada qualquer entidade mencionada no inciso I deste Artigo;
- d) todas as alternativas estão corretas



38 - Segundo a Lei orgânica municipal de Porto União, revisada e atualizada em 2011, O Prefeito Municipal, ao prover os Cargos em Comissão e as funções de confiança, deverá fazê-lo de forma a assegurar que pelo menos, ___% desses cargos e funções sejam ocupados por servidores de carreira técnica ou profissional do próprio Município. Assinale a alternativa correta.

- a) 5
- b) 10
- c) 15
- d) 20

39 - Segundo a Lei orgânica municipal de Porto União, revisada e atualizada em 2011, Um percentual não inferior a ___ por cento dos cargos e empregos do Município será destinado a pessoas portadoras de deficiência, devendo os critérios para seu preenchimento serem definidos em lei municipal. Assinale a alternativa correta.

- a) 1
- b) 2
- c) 3
- d) 5

40 - Segundo a Lei orgânica municipal de Porto União, revisada e atualizada em 2011, Os concursos públicos para preenchimento de cargos, empregos ou funções na administração municipal, não poderão ser realizados antes de decorridos ___ dias de encerramento das inscrições, as quais deverão estar abertas, pelo menos, ___ dias antes e ser amplamente divulgadas. Assinale a resposta correta que corresponde respectivamente aso prazos solicitados acima.

- a) quinze e quinze
- b) quinze e trinta
- c) trinta e trinta
- d) trinta e quinze

41- Paciente chega ao pronto socorro com os seguintes sintomas: febre alta e calafrios, alterações do estado mental, náuseas e vômitos, áreas roxas como machucadas, erupções, pontos vermelhos, fotofobia, dor de cabeça forte, pescoço rígido. Após anamnese é feito o diagnostico. Indique a alternativa correta ao provável diagnostico.

- a- Tétano
- b- Sarampo
- c- Meningite Meningocócica.
- d- Nenhuma das alternativas está corretas

42- Ocorre quando a medula óssea produz em quantidade insuficiente os três diferentes tipos de elementos figurados do sangue existentes: glóbulos vermelhos, glóbulos brancos e plaquetas. Estamos falando de:

- a- Anemia Aplásica
- b- Anemia Falciforme
- c- Leucemia
- d- Nenhuma das alternativas está correta



43- Paciente com febre irregular e prolongada, [anemia](#), indisposição, palidez da pele e ou das mucosas, falta de apetite, perda de peso, inchaço do abdômen devido ao aumento do fígado e do baço. Indique a alternativa correta quanto ao diagnóstico.

- a- Hepatite
- b- Úlcera péptica
- c- Leishmaniose visceral
- d- Nenhuma das alternativas está correta

44- Esta verminose, também conhecidas como **amarelão** têm grande prevalência em regiões quentes e úmidas, de solo arenoso, os vermes causadores destas helmintose têm o peridomicílio como o principal foco de contaminação da população, deve-se ao seguinte fato de que o único hospedeiro para esses parasitas é a espécie humana. Estamos falando de:

- a- Ancilostomose
- b- Oxiurose
- c- Teníase
- d- Nenhuma das alternativas está correta

45- Esta doença é uma condição em que o excesso de ferro é absorvido através do tubo digestivo, sendo o excesso armazenado principalmente no fígado. Estamos falando de:

- a- Cirrose
- b- Alfa-1 antitripsina (AAT)
- c- Síndrome de Gilbert
- d- Hemocromatose

46- É uma doença inflamatória séria do trato gastrointestinal, afeta predominantemente a parte inferior do intestino delgado e intestino grosso, mas pode afetar qualquer parte do trato gastrointestinal. Estamos falando de:

- a- Doença de Crohn
- b- Doença de Ilon
- c- Doenças de Kopp
- d- Nenhuma das alternativas está correta

47- É causada pela intolerância ao glúten, proteína encontrada no trigo, aveia, cevada, centeio e seus derivados, como massas, pizzas, bolos, pães, biscoitos, cerveja, uísque, vodka e alguns doces, provocando dificuldade do organismo de absorver os nutrientes dos alimentos, vitaminas, sais minerais e água. Estamos falando de:

- a- Doença Celíaca
- b- Doença Zeliva
- c- Doença Ritt
- d- Nenhuma das alternativas está correta



48- Paciente com 34 anos com os seguintes sintomas: desconforto abdominal, que pode variar de leve a moderado, sangue nas fezes, forte diarreia acompanhada de sangue ou mucoide, além de febre e calafrios. Indique qual a alternativa correta para esse diagnóstico.

- a- Oxiurus
- b- Amebíase
- c- Teníase
- d- Nenhuma das alternativas está correta

49- É uma infecção bacteriana transmitida por carrapatos, muito comum na América do Norte e na Europa. Estamos falando de:

- a- Doença de Lyme
- b- Doença de Bruck
- c- Doença de Liuus
- d- Nenhuma das alternativas está correta

50- É uma condição em que ocorre o acúmulo de placas de gordura, colesterol e outras substâncias nas paredes das artérias, o que restringe o fluxo sanguíneo e pode levar a graves complicações de saúde. Estamos falando de:

- a- Aterosclerose
- b- Artrose
- c- Esteatose
- d- Nenhuma das alternativas está correta